

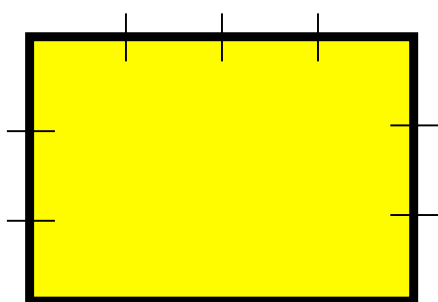


ESEMPI DI TEST PER LA VALUTAZIONE DELLE COMPETENZE MATEMATICHE
PRIMO CICLO Scuola Secondaria di primo grado - Scuola Media

Allegato 2B 2° anno – Lo spazio e le figure (a cura di L. Cerutti)

Nome e Cognome	Classe	Anno Scolastico	Data della prova

Obiettivo: il perimetro e l'area

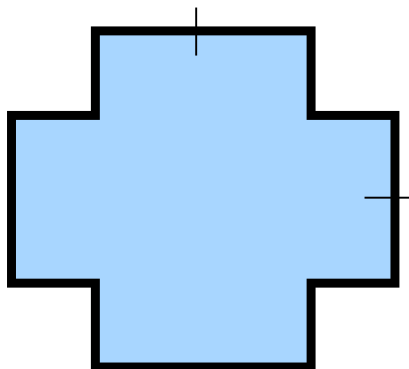


$u = 1 \text{ cm}$



$2p = \dots\dots\dots$

$AREA = \dots\dots\dots \text{ cm}^2$



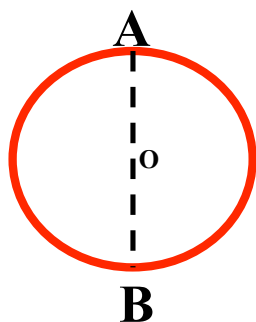
$2p = \dots\dots\dots$

$AREA = \dots\dots\dots \text{ cm}^2$

Obiettivo: circonferenza

$\overline{AB} = 4 \text{ cm}$

$R = \overline{AO} = \underline{\hspace{1cm}} \text{ cm}$



CIRCONFERENZA = $\underline{\hspace{2cm}}$ cm

AREA = $\underline{\hspace{2cm}}$ cm²