

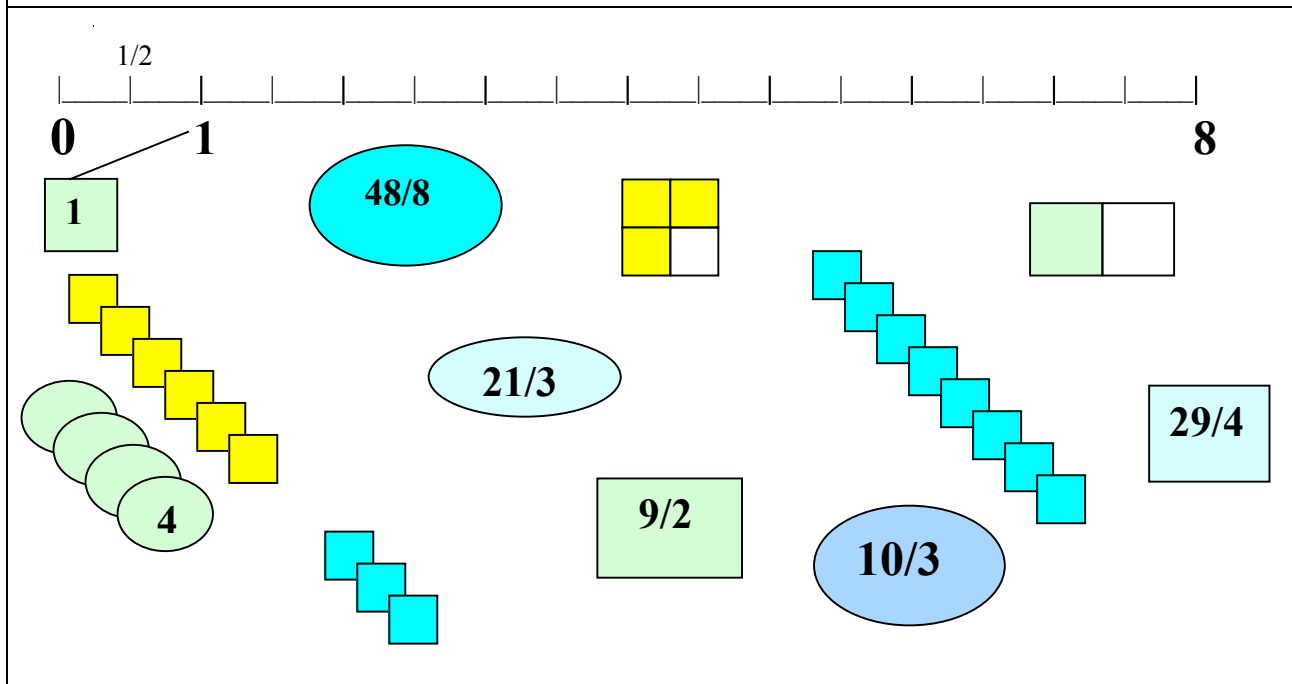


### ESEMPI DI TEST PER LA VALUTAZIONE DELLE COMPETENZE MATEMATICHE PRIMO CICLO Scuola Secondaria di primo grado - Scuola Media

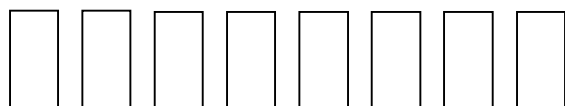
**Allegato 1C** 3° anno – Il numero (a cura di L. Cerutti)

Nome e Cognome	Classe	Anno Scolastico	Data della prova

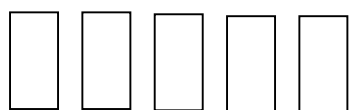
#### Obiettivo: ordinare i numeri e le frazioni e collocarli sulla retta



#### Obiettivo: confrontare i numeri e le frazioni



8



5



10

8    5

10    8

5    8

5    10

? < = >

8/2    10/2

5/2    8/3

10/2    5

5    8/2