

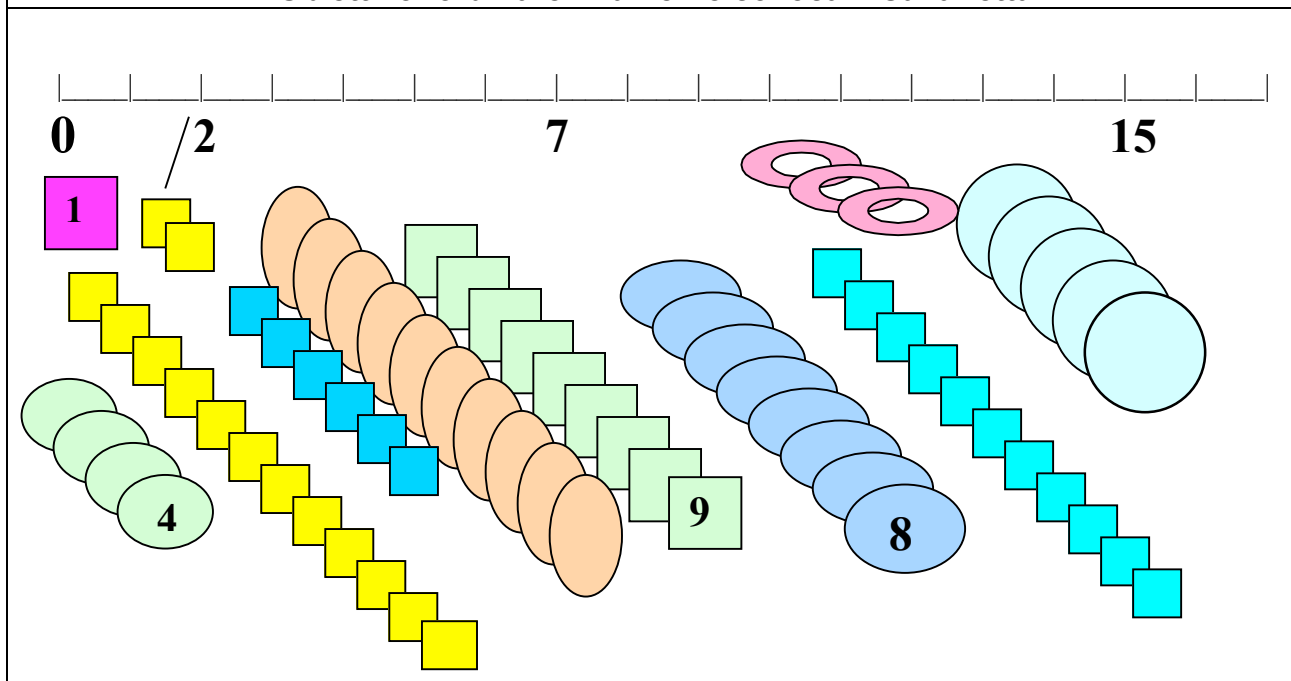


ESEMPI DI TEST PER LA VALUTAZIONE DELLE COMPETENZE MATEMATICHE
 PRIMO CICLO Scuola Secondaria di primo grado - Scuola Media

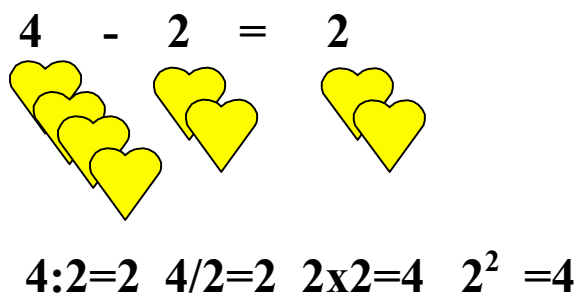
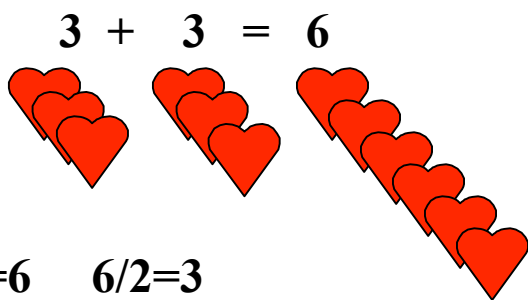
Allegato 1B 2° anno – Il numero (a cura di L. Cerutti)

Nome e Cognome	Classe	Anno Scolastico	Data della prova

Obiettivo: ordinare i numeri e collocarli sulla retta



Obiettivo: eseguire operazioni con i numeri interi



$12 \times (4 - 2) - 20 + 10 : 2 + 6 \times 3 - 1 = \underline{\hspace{2cm}}$

$25 - 2^2 - 20 + 2 \times 2 + 3^2 = \underline{\hspace{2cm}}$

$25 + (13 + 8 - 20) + 2 \times 7 - 13 = \underline{\hspace{2cm}}$

$8 - (12 \times 4 - 5 \times 8) + 9 = \underline{\hspace{2cm}}$

$2676 : 12 = \underline{\hspace{2cm}}$

$1425 : 5 = \underline{\hspace{2cm}}$

$6421 \times 23 = \underline{\hspace{2cm}}$

$2^4 + 3^3 - 4^2 = \underline{\hspace{2cm}}$

$2^3 : 2^2 + 3^2 = \underline{\hspace{2cm}}$

$2^3 + 2^2 \times 2^2 = \underline{\hspace{2cm}}$